

Turinys

| | |
|---|----|
| 1. Kas yra istorija? | 1 |
| 2. Akmens amžius | 2 |
| 3. Žalvario amžius | 3 |
| 4. Baltų atsiradimas | 4 |
| 5. Baltų tikėjimas | 5 |
| 6. Valstybės sukūrimas | 6 |
| 7. Grėsmingi kaimynai | 7 |
| 8. Gediminas – Vilniaus įkūrėjas | 8 |
| 9. Algirdas – didysis LDK kunigaikštis | 9 |
| 10. Lietuvos krikštas | 10 |
| 11. Žalgirio mūšis | 11 |
| 12. LDK – didžiausia Europos valstybė | 12 |
| 13. Pirmoji lietuviška knyga | 13 |
| 14. Vilnius amžių raidoje | 14 |
| 15. Nuo mokyklų iki universiteto | 15 |
| 16. Liublino unija | 16 |
| 17. Bajorų respublika | 17 |
| 18. Valstybės žlugimas | 18 |
| 19. Bažnyčių menas | 19 |
| 20. Baudžiava | 20 |
| 21. Lietuva carų valdžioje | 21 |
| 22. Tautinis atgimimas | 22 |
| 23. Nepriklausomybės paskelbimas | 23 |
| 24. Nepriklausomybės kovos | 24 |
| 25. Atgimstanti valstybė | 25 |
| 26. "Lituanica" skrenda | 26 |
| 27. Juodojo kaspino diena | 27 |
| 28. Okupantų kryžkelėje | 28 |
| 29. Tautos genocidas | 29 |
| 30. Sovietinėje Lietuvoje | 30 |
| 31. Kelias į laisvę | 31 |
| 32. Dabartinė valstybė | 32 |
| 33. Lietuvos valstybės teritorijos kaita | 33 |
| 34. Laiko juosta | 34 |
| 35. Iškiliosios Lietuvos asmenybės. Pinigai | 36 |
| 36. Aplikacijos | 38 |

Lietuvos istorija.

Užduočių sąsiuvinis 5 klasei

Sudarė: Karolis Mickevičius, Rytas Šalna

Redagavo: Teresė Daščorienė

Žemėlapius sudarė ir parengė spaudai Arūnas Latišenka

Dailininkas: Adomas Matuliaskas

ISBN 9955-408-42-1

© Leidykla BRIEDIS, 2010 m.

Parodų g. 4, LT-04133 Vilnius,

e-knygynas www.briedis.eu, info@briedis.lt

Spausdino AB „Spauda“,

Laisvės pr. 60, LT-05120 Vilnius,

www.spauda.com, info@spauda.com

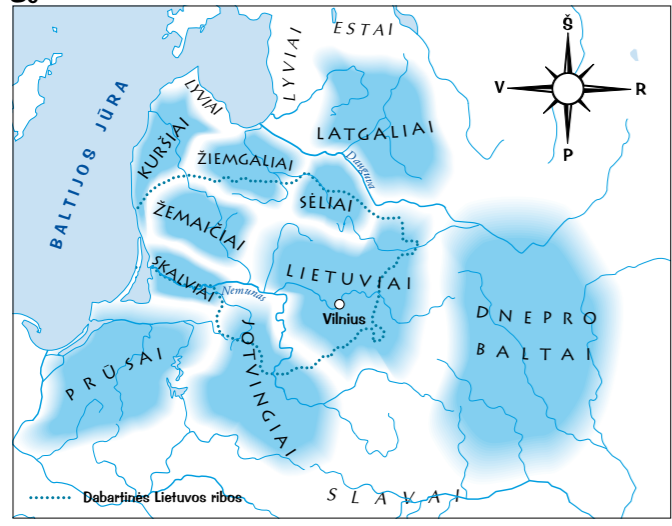


Spausdinti panaudotas
chloru ir jo junginiais
nebalintas popierius



PAŽYMĖK

Baltų genčių žemėlapyje: a) paryškink dabartinės Lietuvos ribas; pažymėk vietą, kurioje tu gyveni ir vietas, kuriose gyvena tavo seneliai.



ĮRAŠYK

Greita esančiame žemėlapyje nustatyk, kurios baltų gentys gyvena:

- a) tik dabartinėje Lietuvos teritorijoje
- b) dabartinėje Lietuvos teritorijoje ir už jos ribų
- c) už dabartinės Lietuvos teritorijos ribų

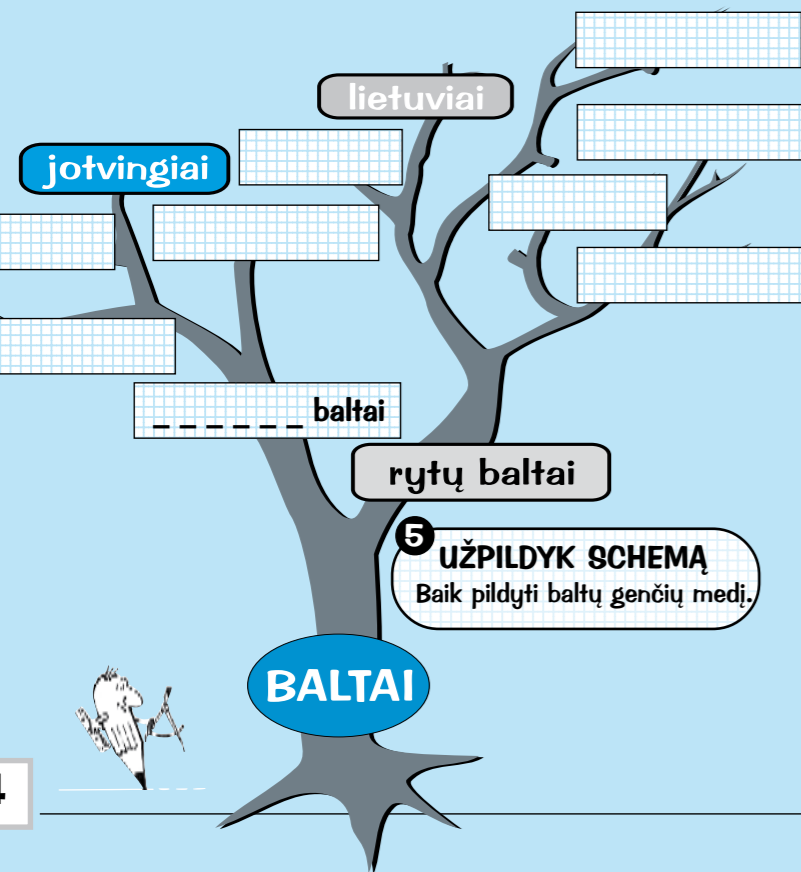
2

ĮRAŠYK

35 p. 3 atkarpoje užpildyk laiko juostą.

3 UŽPILDYK LENTELĘ:

| | Iš ko pagaminti. Jei nebuvo naudojami, įrašyk brūkšnelį (-) | | |
|------------------|---|------------------|------------------|
| | Akmens amžiuje | Žalvario amžiuje | Geležies amžiuje |
| ARKLAS | | | |
| KIRVUKAS | | | |
| KALAVIJAS | | | |
| PAPUOŠALAI | | | |
| PEILIS | | | |
| PUODAS | | | |
| VALGYMO ĮRANKIAI | | | |


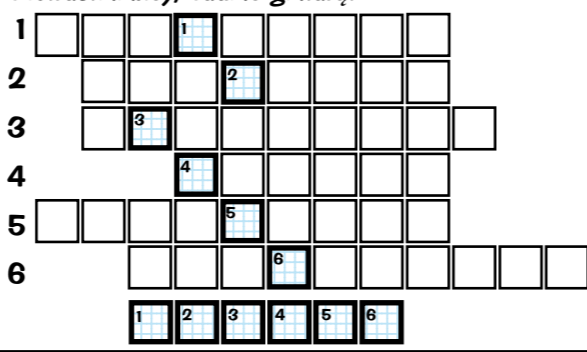


5 UŽPILDYK SCHEMĄ

Baik pildyti baltų genčių medį.

IŠSPRĖSK KRYŽIAŽODĮ

1. Į šiaurės rytus nuo sėlių gyvenusi gentis
 2. Į šiaurės vakarus nuo jotvingių gyvenusi baltų gentis
 3. Karingiausia baltų gentis
 4. Į šiaurę nuo lietuvių gyvenusi gentis
 5. Didžiausias žemes turėjusi baltų gentis
 6. Į šiaurės vakarus nuo sėlių gyvenusi gentis
- Surašęs į languotą juostą skaičiais pažymėtas raides, sužinosi, kaip baltai, anot Tacito (romėnų metraštininko), vadino gintarą.



1 ĮRAŠYK

- a) Nuspalvink paveikslą ir tinkamose vietose įrašyk šiuos žodžius: VAIDILUTĖ, KRIVIS, AUKURAS, STABAS, PAGONYS, AUKOS.
- b) Paaškinsk kas vaizduojama paveiksle?


SUJUNK

Ką valdė šie dievai ir deivės? Sujunk rodyklėmis.

- GABIJA teisingumo dievas
- LAIMA nakties šviesos valdovas
- MĖNULIS laukinės gamtos deivė
- ŽEMYNA ugnies deivė
- PERKŪNAS derlingumo ir gyvybės deivė
- MEDEINA likimo deivė

ĮRAŠYK

Įrašyk, kokius dievus ar deives vaizduoja paveikslėliai. DIEVAS, AITVARAS, RAGANA, GILTINĖ, LAUMĖ, LAIMA



4 ĮRAŠYK

Atpažink, kokios pagoniškos šventės čia apibūdintos. Įrašyk jų pavadinimus.

- — — — s — — — — — ilgiausios dienos ir trumpiausios nakties šventė
- a — — — — — ilgiausios nakties ir trumpiausios dienos šventė
- ž — — — — s — — — — žiemos išsavyimo šventė
- e — — — — — gamtos atgimimo, pavasario šventė
- é — — — — — mirusių protėvių pagerbimo diena