



## Turinys

1.1 Pasaulinis karas nepasikartos? .....	1	2.8 Baltijos šalys.....	19
1.2 „Pasaulį naują pastatysim“ .....	2	3.1 SSRS ir Vokietija dalijosi Europą .....	20
1.3 Pasaulinė ekonomikos krizė.....	4	3.2 Neišvengiama agresorių dvikova .....	22
1.4 Tarp demokratijos ir diktatūros.....	5	3.3 Antrojo pasaulinio karo pabaiga .....	24
1.5 GULAGO archipelagas .....	6	3.4 Karo padariniai ir nusikaltimai.....	26
1.6 Trečiasis reichas .....	8	4.1 Lietuva praranda nepriklausomybę .....	28
1.7 Gyvenimas tarpukariu:		4.2 Nacistinė okupacija .....	30
mokslas, menas, žmogus.....	10	4.3 Lietuvos žydų tragedija.....	32
2.1 Nepriklausomybės kovos .....	11	4.4 Sovietinė Lietuvos reokupacija .....	33
2.2 Lietuvos ir Lenkijos konfliktas .....	12	4.5 Lietuvos partizaninis karas su SSRS .....	35
2.3 Vilnius – Lietuvos drama.....	13	Ar išmokai? .....	37
2.4 Steigiamasis seimas.....	14	Laiko juosta .....	39
2.5 Smetonos laikų Lietuva.....	15	Kaip bėga laikas? .....	40
2.6 Lietuvos ūkio ir kultūros laimėjimai .....	17		
2.7 Kasdienis gyvenimas nepriklausomoje Lietuvoje..	18		

## LAIKAS. Istorijos užduočių sąsiuvinis 10 klasei. I dalis

 – temos puslapis vadovėlyje

Istorijos vadovėlio LAIKAS 10 priedas

**ISBN 978-9955-26-077-6**

© I. Kapleris, A. Meištas, K. Mickevičius

© Leidykla BRIEDIS, 2012 m.

Parodų g. 4, LT-04133 Vilnius

info@briedis.lt, e-knygynas [www.briedis.eu](http://www.briedis.eu)

Spausdino UAB „Spaudos praktika“

Chemijos g. 29, LT-51333 Kaunas

[www.repro.lt](http://www.repro.lt), [spauda@repro.lt](mailto:spauda@repro.lt)



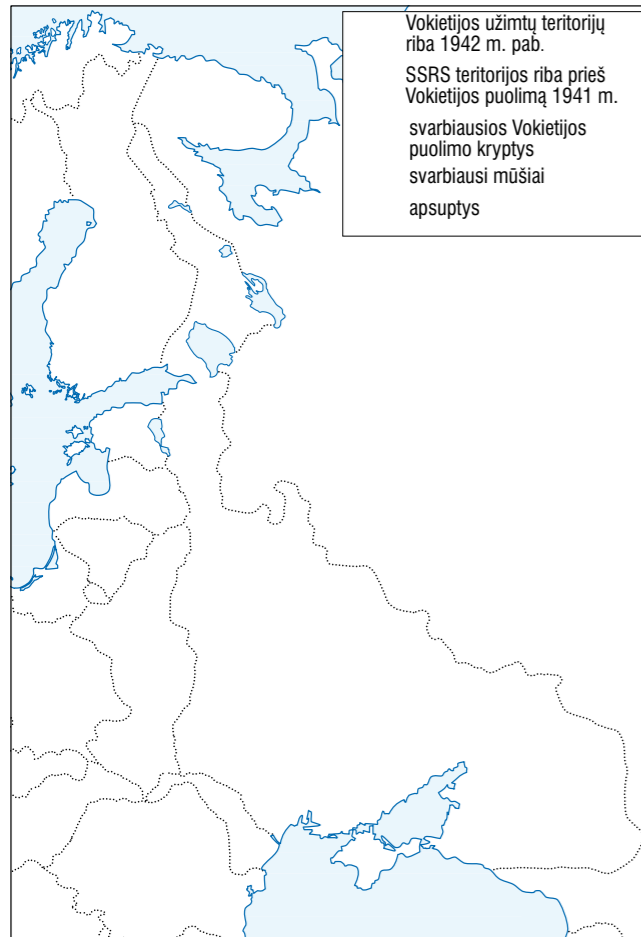
Spausdinti panaudotas  
chloru ir jo junginiais  
nebalintais popierius



### Iliustracijų šaltiniai

AKG, 5 p.; Archiv für Kunst und Geschichte, 40 p.; BDIC, 40 p.; Courtesy United Airlines, 40 p.; Galkus J., 40 p.; Garvens O., 9 p.; Genocido aukų muziejus, 34–36 p.; Geo Epoche, 24 p.; Imperial War Museum, London, 22, 40 p.; Kizn T., 40 p.; Lietuvos centrinis valstybės archyvas, 18 p.; Lietuvos nacionalinis muziejus, 14, 15, 17, 54 p.; Lietuvos vaizdo ir garso archyvas, 40 p.; Lietuvos valstybės centrinis archyvas, 40 p.; M. K. Čiurlionio dailės muziejus, 14 p.; Mažosios Lietuvos istorijos muziejus, 40 p.; Musee du Louvre, Paris, 10 p.; Muzeum Wojska Polskiego, Warszawa, 40 p.; Nacionalinė M. Mažvydo biblioteka, 31 p.; Olimpia-Publifoto, 2 p.; Snark- Edimedia, 10 p.; Stalüter H., 8 p.; Šiaulių „Aušros“ muziejus, 14 p.; V. Staniulio knygynas, 13 p.; Vytauto Didžiojo karo muziejus, 11, 12, 40 p.; История России XX век, Москва, Аванта, 1995, 40 p.

Leidėjai stengėsi susisiekti su iliustracijų autorių teisių savininkais, bet ne visada sėkmingai. Jei iliustracijų savininkai pareikštų savo teises, esame pasirengę įvykdyti visus pagrįstus reikalavimus.




Vokietijos užimtų teritorijų riba 1942 m. pab.  
SSRS teritorijos riba prieš Vokietijos puolimą 1941 m.  
svarbiausios Vokietijos puolimo kryptys  
svarbiausi mūšiai  
apsuptys

#### 1 SSRS ir Vokietijos karas 1941–1943 m. Žemėlapyje atlik užduotis.

1. Nubrėžk SSRS teritorijos prieš Vokietijos puolimą 1941 m. ribą.
2. Pažymėk Maskvos, Stalingrado, Leningrado mūšių vietas ir įrašyk pavadinimus, nurodyk Vokietijos kariuomenės puolimo kryptis, Raudonosios armijos apsuptas grupuotes.
3. Nubrėžk Vokietijos ir jos sąjungininkų užimtų teritorijų ribą 1942 m. pab.

#### 2 Išnagrinėk karikatūras.



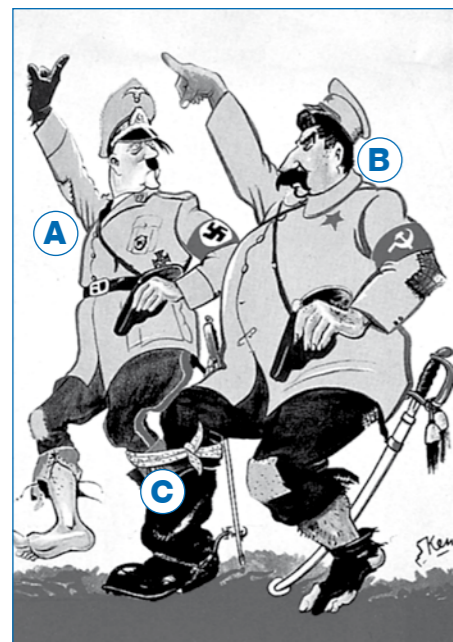
„Iškamšų meistras A. Hitleris“. 1941 m. karikatūra

Ką simbolizuoja karikatūros objektai?

- A .....
- B .....
- C .....

Kokiam įvykiui skirta karikatūra?

Kokia pagrindinė šios karikatūros mintis?



1939 m. anglų karikatūra.

Ką simbolizuoja karikatūros objektai?

- A .....
- B .....
- C .....

Kokia pagrindinė šios karikatūros mintis?

#### 3 Išnagrinėk rašytinį šaltinį.

##### Sovietinio istorijos vadovėlio ištrauka

Vakarų valstybių valdantiesiems sluoksniams nuolaidžiauojant, fašistinė Vokietija sukėlė Antrąjį pasaulinį karą, užgrobė daugelį Europos valstybių, o po to klastingai užpuolė TSRS. Kovodami prieš Tarybų Sąjungą, hitlerininkai turėjo laikinų pranašumų: Vokietijos ekonomika ir visas gyvenimas buvo militarizuoti. Ji ilgai ruošėsi grobikiškam karui ir turėjo kariavimo Vakaruose patirties; turėjo moderniausių ginklų ir kariuomenės, kuri buvo iš anksto

sutelkta pasienio rajonuose. Fašistinei Vokietijai priklausė beveik visos Vakarų Europos kariniai ir ekonominiai išteklių. Raudonajai armijai karo pradžioje pirmiausia nesisekė todėl, kad priešas užpuolė staiga. Pirmuosiuose mūšiuose tarybinė kariuomenė neteko daug karių, karinės technikos ir ginklų, žuvo tūkstančiai raudonarmiečių, vadų ir politinių darbuotojų. Priešas ilgą laiką turėjo daugiau gyvosios jėgos ir kovos priemonių.


TSRS istorija X–XI klasei. – Kaunas, Šviesa, 1975, p. 34.

- Nustatyk, kurie sovietiniame vadovėlyje minimi faktai yra melagingi. Greta paaiškink, kaip buvo iš tiesų.

Melas	Tiesa

#### 4 Nubraižyk stulpelinę diagramą. Ginklų gamyba (tūkst.) SSRS ir Vokietijoje 1941 m. II pusėje.

	Vokietija	SSRS
Pabūklai	8,5	16
Tankai	2,2	4,7
Lėktuvai	5,4	9,7



- Kokių išvadų iš diagramos duomenų gali padaryti?

#### 5 Kas buvo anksčiau (< ar >)?

- Miuncheno sąmokslas  Ribentropo–Molotovo paktas
- Stalingrado mūšis  Mūšis dėl Didžiosios Britanijos
- SSRS–Vokietijos karas  „Žiemos karas“
- Japonija užpuolė JAV  SSRS ir Vokietija užpuolė Lenkiją
- Sudaryta antihitlerinė koalicija  Sudaryta Ašis

#### 6 39 p. užpildyk 3.2 temos laiko juostą (1 laukelį).