

2.9 Vytautas Didysis – Lietuvos valdovas

48–49 p.

1 NUSPALVINK

Raudonai nuspalvink trikampėlių pažymėtus langelius ir įrašyk LDK herbo pavadinimą.




2 NUSPALVINK

Lietuvos Didžiosios Kunigaikštystės pirmame žemėlapyje 29 p. nuspalvink Vytauto valdymo laikais prijungtas žemes.

3 UŽPILDYK SCHEMĄ

Baik pildyti didžiųjų Lietuvos kunigaikščių šeimos medį.




6 NUSPALVINK

Teisingai nuspalvink Lietuvos valstybės simbolius: Vyti, Gediminaičių stulpus ir Vyčio kryžius. Rodyklėmis sujunk simbolius su jų reikšmėmis.

VYTIS

VYČIO KRYŽIUS


GEDIMINAIČIŲ
STULPAI



KRIKŠTO
SIMBOLIS

VALSTYBĖS
HERBAS

ASMENINIS
KUNIGAIKŠČIO
HERBAS



7 RESTAURUOK

Paveikslėlyje pavaizduota Trakų pilis iki restauravimo. 38 p. iškirpk dabartinės Trakų pilies dalis ir įklijuok reikiamoje vietoje – restauruok ją.

4 LAIKO JUOSTA

28 p. užpildyk 2.9 temos laiko juostą (1 laukelį).

5 RASK

Raidžių margumyne yra paslėpti penkių didžiųjų Lietuvos kunigaikščių vardai. Rask ir apibrauk juos.

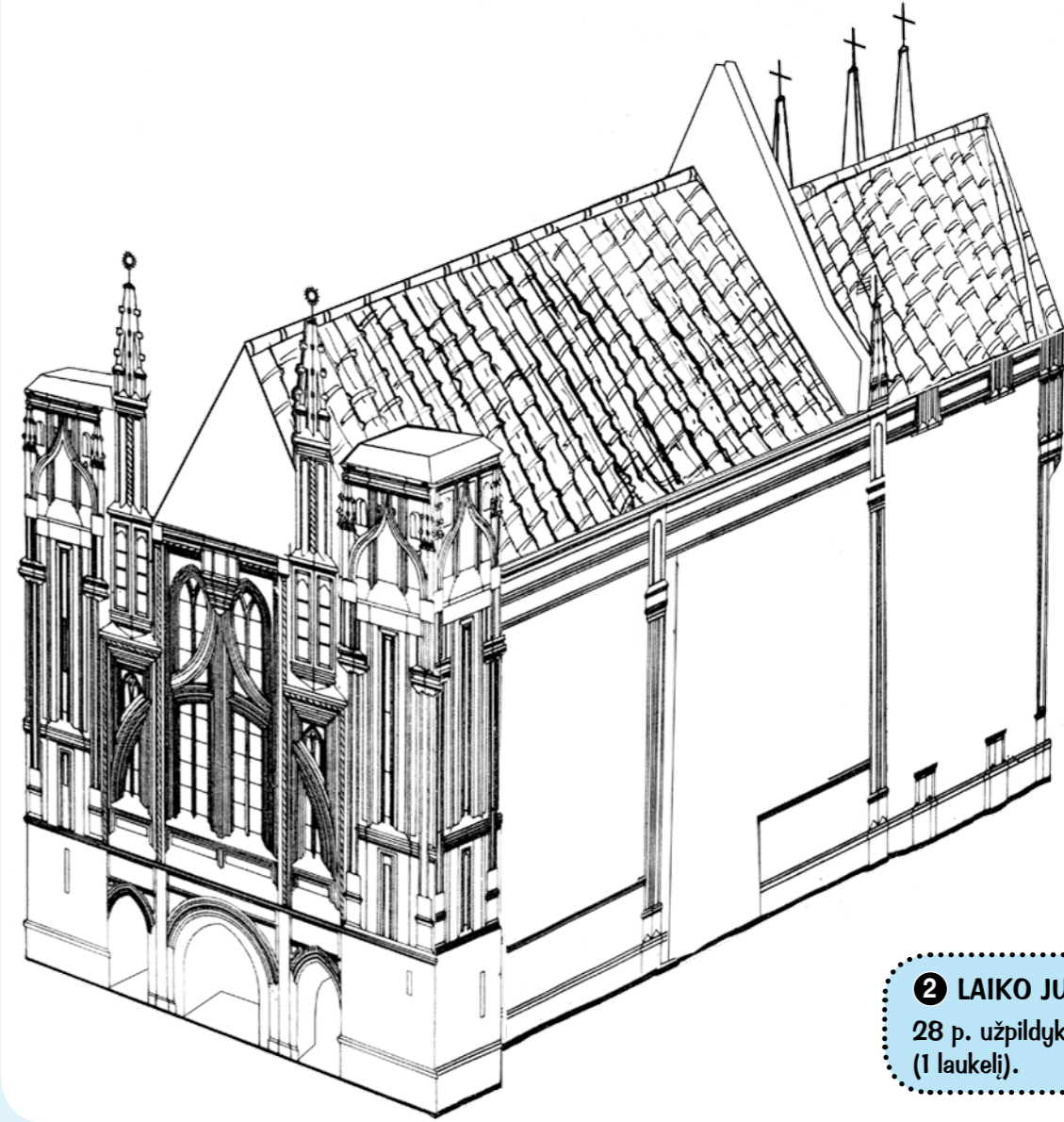
P	M	V	I	K	R	S	M
N	O	Y	S	Ę	U	I	I
J	V	T	L	S	D	T	N
O	K	A	F	T	Y	U	D
G	T	U	Z	U	E	N	A
A	L	T	Č	T	S	U	U
I	G	A	K	I	P	A	G
L	B	S	R	S	L	J	A
A	L	G	I	R	D	A	S

2.10 Vilniaus Šv. Onos bažnyčia

50–51 p.

1 IŠKIRPK IR PRIKLIJUOK

Paveikslėlyje pavaizduota Šv. Onos bažnyčia. 38 p. iškirpk ir reikiamose vietose priklijuok trūkstantis pastato dalis.



2 LAIKO JUOSTA

28 p. užpildyk 2.10 temos laiko juostą (1 laukelį).

3 ATPAŽINK

Iš paveikslėliuose pavaizduotų pastatų du yra gotikos stiliaus. Atpažink juos. Į apskritimą įrašyk (G).

